
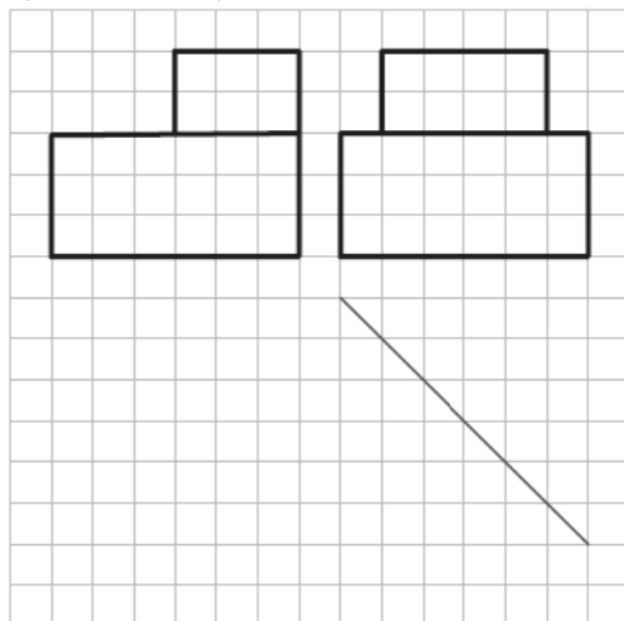
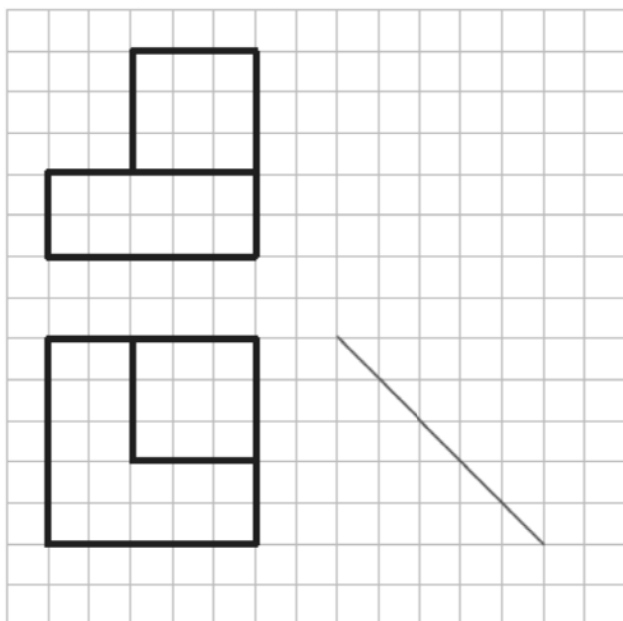


شماره دانشجوی:	رسم فنی و نقشه کشی ساختمان	
موضوع تحویل: ۲۱ آبان ماه	تمرین سری دوم: مجول یابی	دانشکده مهندسی - گروه مهندسی عمران

۱- در شکل های زیر مطلوبست یافتن نامی مجول سوم و ترسیم وضعیت سه بعدی جسم (هر یک از واحدهای شطرنجی را ۵ میلی متر در نظر بگیرید).



۲- در شکل زیر مطلوبست یافتن نامی اقصی و ترسیم وضعیت سه بعدی جسم.

